

# مُرَاجَعَةٌ دَرِاسَاتٍ اجْتِمَاعِيَّةٍ (4)

( العَامُ الدَّرَاسِي 2018-2019 )

## الفصل الدراسي الثاني والثالث

مهارات ومعارف الوحدة الاولى (وطن السعادة) و الوحدة الثانية (عراقة بلادي)

المقارنة والتشابه والاختلاف	التمييز بين العبارات الصحيحة والعبارات الخاطئة	الشخصيات البارزة والخطوط الزمنية
تطبيق خطوات حل المشكلات	معرفة القيم السلوكية وقيم دولة الامارات مثل التسامح والمسؤولية والمواطنة	التعريفات والمصطلحات والمفاهيم
كتابة رأيه في موضوع معين ورسائل شكر للقيادة الحكيمة	التعرف على مجالات الابتكار والابداع والتكنولوجيا والمشاريع الاقتصادية الرائدة	قراءة وتحليل الصور والاشكال والخرائط
		المخططات الذهنية

مديرة المدرسة : سحر امام عذب

منسق المادة : أضواء شاكر

مُعَلِّمُ المَادَّة: **أَيْمَنُ عَبْدِ اللَّهِ**

اسم الطالب	.....
الصف والشعبة	الرابع ( )

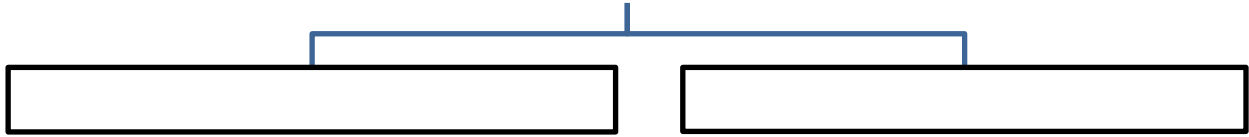
## ( درس السكان في بلادي )

1 - ما أسباب النمو السكاني بالإمارات : - ( 1 - 2 - 3 )

.....	.....	.....
-------	-------	-------

2 - اكمل المخطط الذهني التالي موضحا أهداف مجلس التعاون الخليجي : - ( 1 - 2 )

اهم اماكن توزيع السكان بالإمارات



3 - اكتب التعريف المناسب امام المصطلحات الاتية : - ( 1 - 2 - 3 - 4 )

.....	التنمية
.....	الرموز
.....	التوزيع السكاني
.....	التعداد السكاني

4 - اكمل المخططات الاتية : - ( 1 - 2 - 3 - 4 - 5 - 6 )

العوامل المؤثرة في توزيع السكان



اهمية التعداد السكاني



5 - صل بين الجمل ومكانها المناسب على خريطة دولة الامارات : ( 1 - 2 - 3 )

السهل الساحلي الشرقي

السهل الساحلي الغربي

المناطق الصحراوية ( العين )

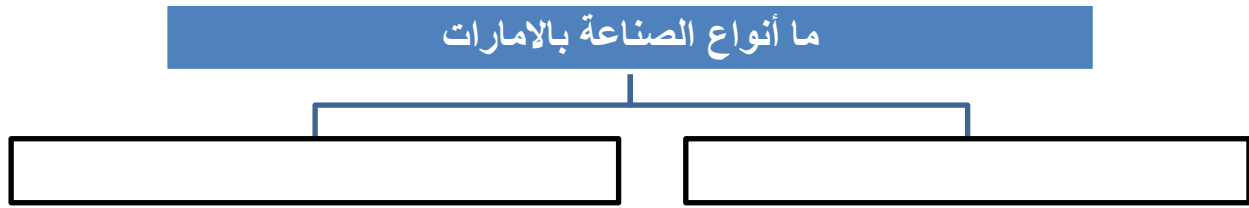


( درس الأنشطة الاقتصادية في بلادي )

1 - ما أهم الأنشطة الاقتصادية بالإمارات : - ( 1 - 2 - 3 )

.....	.....	.....
-------	-------	-------

2 - اكمل المخطط الذهني التالي موضحا أنواع الصناعة بدولة الامارات : - ( 1 - 2 )



3 - اكتب التعريف المناسب امام المصطلحات الاتية : - ( 1 - 2 - 3 - 4 )

.....	الصناعة
.....	التجارة
.....	السياحة
.....	الامن الغذائي

4 - اكمل الجدول التالي بما يناسبه : - ( 1 - 2 - 3 - 4 - 5 - 6 )

.....	.....	اهم الصادرات
.....	.....	اهم الواردات
.....	.....	أنواع السياحة
.....	.....	مقومات السياحة
.....	.....	اهم المزروعات
.....	.....	اهم المناطق الاثرية

5 - ما اهم القوانين للمحافظة على الثروة الحيوانية بدولة الامارات : ( 1 - 2 - 3 )

--	--	--

6 - ما اهم الإجراءات التي اتخذتها دولة الامارات لتطوير القطاع الزراعي :- ( 1 - 2 - 3 )

--	--	--

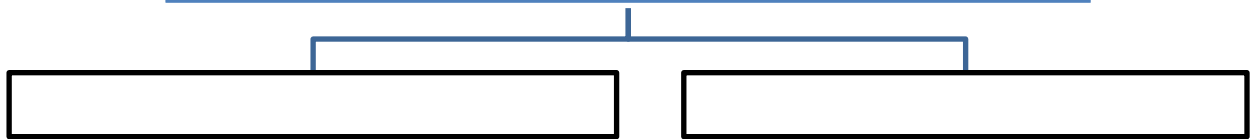
( درس بينتي مسؤوليتي )

1 - ما الأسباب البشرية للتلوث بالإمارات : - ( 1 - 2 - 3 )

.....	.....	.....
-------	-------	-------

2 - اكمل المخطط الذهني التالي : - ( 1 - 2 )

ما أنواع التلوث بالإمارات



3 - اكتب اثر التلوث : - ( 3 - 2 - 1 )

.....	على الانسان
.....	على الحيوان
.....	الكائنات الاخرى

4 - اكمل الجدول التالي بما يناسبه : - ( 6 - 5 - 4 - 3 - 2 - 1 )

.....	.....	أسباب الازدحام المروري
.....	.....	اضرار الازدحام
.....	.....	طرق حل الازدحام
.....	.....	جهود زايد نحو البيئة
.....	.....	إجراءات الامارات لحماية البيئة
.....	.....	دورك تجاه البيئة



5 - اكتب تعليق مناسب حول الصورة :- ( 3 - 2 - 1 )

.....

.....

.....

## ( درس بطولات وامجاد )

1 - اكمل الجمل الاتية بما يناسبها من كلمات : -

- عرفت منطقة الامارات قديماً بأسماء عديدة منها ..... و .....
- كلمة طواعية تعني الدخول بالإسلام عن ..... و .....
- الصحابي الجليل الذي حمل رسالة رسول الله صل الله عليه وسلم الى الامارات هو .....
- حملت الرسالة الى ملكي عمان وهما ..... و ..... أبني الجندي .
- التكافل الاجتماعي هو .....

2 - ما سبب سرعة دخول اهل منطقة عمان والامارات الى الإسلام ؟ .....

3 - ما اثر الإسلام على اهل منطقة عمان والامارات ؟

--	--	--

4 - بما تميزت رسائل الرسول صل الله عليه وسلم ؟ .....

1 - ما هو الموقع الجغرافي لدبا ؟ .....

3 - قارن بين مدينة دبا تاريخياً ودبا في الحاضر ؟

تاريخياً : ..... في الحاضر : .....

4 - اذكر اهم الأماكن السياحية في مدينة دبا ؟

..... و .....

5 - ما هي اهم الاحداث والإنجازات في حياة المهلب بن أبي صفرة ؟

..... و .....

6 - اكمل : - المضيق الذي يكون قريباً من مدينة دبا هو ..... وتطل دبا على بحر .....

- دبا تمثل مركزاً تجارياً بين الشرق والغرب وهي ما نطلق عليه اليوم .....

7 - ضع (صح) او (خطأ) - ظهرت على المهلب علامات الشجاعة منذ الصغر ( )

- كانت أولى غزوات المهلب في بلاد السند ( )

- ولد المهلب في السنة العاشرة للهجرة ( )



( درس إمارات ومسمى )

1- اكمل الجدول التالي حسب معطياته : - ( 10 / )

الإمارة	سبب التسمية	الحاكم	بما تتميز
أبوظبي	..... ..... .....	..... ..... .....	..... ..... .....
دبي	..... ..... .....	..... ..... .....	..... ..... .....
الشارقة	..... ..... .....	..... ..... .....	..... ..... .....
راس الخيمة	..... ..... .....	..... ..... .....	..... ..... .....
الفجيرة	..... ..... .....	..... ..... .....	..... ..... .....
ام القيوين	..... ..... .....	..... ..... .....	..... ..... .....
عجمان	..... ..... .....	..... ..... .....	..... ..... .....

مدرسة المنارة الخاصة / الشامخة / أبوظبي

## الفصل الدراسي الثالث - ( درس الميزانية الشخصية )

1 - أكتب التعريف المناسب أمام المصطلحات الآتية : -

المصطلح	التعريف
الدخل	
الإنفاق	
الادخار	

2 - ما أهمية الدخل ؟

أ - .....  
ب - .....

3 - ما هي الأعمال التي يعمل بها الناس للحصول على النقود ؟

أ - .....  
ب - .....  
ج - .....  
د - .....

4 - ما هي أبواب الإنفاق لدى الفرد ؟

أ - .....  
ب - .....

5 - ما أهمية الادخار ؟

أ - .....  
ب - .....

6 - كيف تدير مصروفك الشخصي ؟

أ - .....  
ب - .....  
ج - .....

7 - ما هي مصادر مصروفك الشخصي ؟

أ - .....  
ب - .....





## ( درس إنجازات اقتصادية )

1 - ما العوامل التي ساعدت على تحقيق المشروعات الاقتصادية ؟

..... و ..... و .....

2 - ما هي اهم المشروعات الاقتصادية بالإمارات ؟

..... و ..... و .....

3 - ما سبب نجاح المشروعات الاقتصادية في بلادي ؟

أ - ..... ب -

.....

4 - عرف الجزر الصناعية :

5 - من اشهر الجزر الصناعية : ..... و .....

6 - ما أهمية الجزر الصناعية ؟

أ - ..... ب -

.....

7 - عرف الزراعة المائية :

8 - اذكر مزايا الزراعة المائية ؟

أ - ..... ب -

ج -

9 - اكتب بعض المحاصيل التي تزرع بالزراعة المائية

.....	.....	.....	.....	.....
-------	-------	-------	-------	-------

## ( درس مشاريع رائدة )

1 - اكتب التعريف المناسب امام المصطلحات الاتية : -

	السد
	النقل
	النفق

2 - من أهمية السدود ..... و .....

3 - يبلغ عدد السدود ..... وتتركز السدود في المناطق ..... و .....

4 - قارن بين سد وادي البيح وسد وادي حام : -

سد وادي حام	سد وادي البيح	وجه المقارنة
		الموقع
		سنة الانشاء
		الهدف من الانشاء

5 - من استخدامات الانفاق ..... و .....

6 - من اهم الانفاق بالإمارات ..... و .....

7 - من أهمية النقل ..... و .....

8 - من خلال مهارة قراءة الصور استنتج أنواع النقل والمواصلات بالإمارات : -



مدرسة المنارة الخاصة / الشامخة / أبوظبي

## ( درس ابداعات جدي )

1 - اكتب التعريف المناسب امام المصطلحات الاتية : -

	القرية
	الساج
	الشرية

2 - ما هي العوامل التي ساعدت الأجداد على الابداع والابتكار ؟

أ - ..... ب - .....

3 - ما هي الصناعات التي استخرجها الأجداد من الحيوانات ؟

أ - ..... ب - .....

4 - ما هي المواد التي صنع منها الأجداد ادواتهم ؟

أ - ..... ب - ..... ج - .....

5 - ما هي الأدوات المنزلية التي صنعها الأجداد ؟

أ - ..... ب - ..... ج - .....

6 - ما هي مميزات الشريعة ؟

أ - ..... ب - .....

7 - اختر الإجابة الصحيحة مما بين القوسين : -

أ - تسمى الأداة التي يحمل فيها الماء ( الحصير - الجفير - القرية )

ب - ظلى اجدادي سفنهم قديماً ب ( زيت النخيل - شحم الحوت - الطين )

ج - البارزة اداه استخدمت في ( الزراعة - الصيد - الرعي )



## ( درس علم الطب )

1 - الطب هو .....

2 - ما هي عوامل التفوق العلمي للعلماء المسلمين : -

أ - .....  
ب - .....

3 - ما هي العلوم التي برع فيها العلماء المسلمون : -

أ - .....  
ب - .....  
ج - .....  
د - .....

4 - ما هي صفات الطبيب :

أ - .....  
ب - .....

5 - ما هي اهم إنجازات العالم المسلم أبوبكر الرازي ؟

أ - .....  
ب - .....

ج - .....

6 - ما هي جهود دولة الامارات في مجال الطب ؟

أ - .....

ب - .....

7 - ما هي الجامعات التي تدرس الطب في دولة الامارات ؟

أ - .....

ب - .....  
ج - .....

8 - تحدث عن طبيب اماراتي مبدع من هو وما هي اهم إنجازاته في مجال الطب ؟

اسم الطبيب / .....

إنجازاته / .....

## ( درس حضارتنا )

1 - ما هي عوامل قيام الحضارة ؟

أ - .....

ب - .....

ج - .....

2 - الحضارة هي .....

3 - ما هي اهم المواقع الاثرية بدولة الامارات ؟

ام القوين	الشارقة	دبي	أبوظبي

4 - اكمل الجدول التالي بكتابة اهم المكتشفات للأثار الإماراتية ؟

العمارة	المدافن	الادوات

6 - حدد على خريطة الامارات اهم المواقع الاثرية بالدولة ؟



- أم النار
- القصيص
- الدور
- مليحة

" اخي الطالب : ألم الدراسة لحظة وتنتهي ، ولكن إهمالها وتركها ألم يستمر مدى الحياة "

©ayman.Abdulla@ampss.ae

( التقييم ) ( 😊 ) ( 😐 ) ( 😞 )