

Adek
Alain office
Alhayer school



وزارة التربية والتعليم
مكتب العين التعليمي
مدرسة الهير للتعليم الاساسي والثانوي
قسم الدراسات الاجتماعية



نموذج تدريبي الصف الثاني - الفصل الثالث

الاسم :

.....
.....
.....
.....



2018-2019
SCHOOL YEAR

المعلم عمر حسن إبراهيم
قسم الدراسات الاجتماعية - مدرسة الهير

الإنتاج هو عبارة عن نشاط يمارسه الانسان لتوفير السلع والخدمات التي يحتاجها مقابل الحصول على المال

1 الإنتاج نشاط يمارسه الانسان ويهدف من خلال إلى

B توفير السلع

A توفير السلع والخدمات

D تقديم الخدمة بالمجان

C الخدمات توفير

2 واحدة من الصور التالية ليس مثال على عناصر الإنتاج




b



a



d



c



3 هات مثال واحد على كل من

انتاج غذائي

أهمية الإنتاج

4 هناك علاقة بين المادة الخام في الصورة الأولى والمنتج في الصورة الثانية

5	4	3	2	1
ن	ز	خ	ا	ة



الخشب

1	5	2	4	3
		ا		

هو استخدام السلع والخدمات التي يحتاج إليها الإنسان

1 هذا التعريف يشير إلى مفهوم

B الاستهلاك

A الإنتاج

D الإسراف

C الترشيد


2 واحدة من الصور التالية تمثل سلع تستهلك بشكل يومي



b



a



d



c



3 هات مثال واحد على كل من

عنصر انتاج غير طبيعي

عنصر انتاج طبيعي

4 هناك علاقة بين الصورتين مستعين بالحروف

6	5	4	3	2	1
ك	ل	س	ت	ه	ك

1	6	5	2	3	4	6	5	6
	ا		ه	س	ت			



+



الدخل

استهلاك السلع بشكل معتدل يعرف

1 هذا التعريف يشير إلى مفهوم

B الاستهلاك

A الإنتاج

D الإسراف

C الترشيد

2 واحدة من الصور التالية تمثل الترشيد



b



a



d



c



3 هات مثال واحد على كل من

إعادة التدوير مثال

أهمية الاستهلاك

4 هناك علاقة بين الصورتين مستعين بالحروف

4

5	4	3	2	1
ر	ت	ي	د	ش



=



إعادة التدوير

2	3	1	5	4

اقرأ الفقرة الآتية، ثم أجب:

تطورت الصناعات القديمة في دولة الإمارات العربية المتحدة، وأصبحت تنافس الصناعات المستوردة من الخارج من حيث الجودة والأسعار.

1. تهتم دولة الإمارات العربية المتحدة بتطوير الصناعة بسبب:

a. عدم حاجتها للصناعات القديمة

b. لتوفير احتياجات السكان

c. لرغبتها في استيراد صناعات من الخارج

d. لعدم قدرتها على توفير احتياجات السكان

2. من الصناعات القديمة في دولة الإمارات العربية المتحدة:




b.



a.



d.



c.

3. هات مثالاً واحداً لكل مما يلي:

عناصر الإنتاج	سلع نستخدمها لفترات طويلة
.....

تعرف على تطور الصناعة في دولة الإمارات العربية المتحدة، بكتابة الحرف الذي يقابل الأرقام الواردة في الجدول الآتي عند الصناعة الحديثة لاستكمال اسم المنتج المطلوب.

1	2	3	4
ع	د	ق	م



4. الحصير

2	1	3	4
---	---	ق	---

5. اكتب فيما يلي عبارة تعبر فيها عن فخرك بالصناعات الوطنية.



البيئة هي المكان الذي يعيش فيه الانسان وهناك ثلاث بيئات منها الجبلية والساحلية والصحراوية والمساكن تصنع من الشعر والطين والعريش

1 المساكن في البيئة الساحلية تصنع من بيت

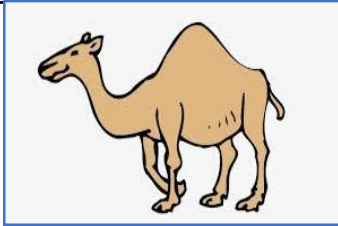
B العريش

A الشعر

D الحجر

C الطين


2 بيت الشعر في الصحراء يبني من



b



a



d



c



3 هات مثال واحد على كل من

إعادة التدوير مثال

أهمية الاستهلاك

4 هناك علاقة بين الصورتين مستعين بالحروف

4	3	2	1
خ	ن	ة	ل



=



بيت العريش

2	1	4	3

تجمع كبير من المياه غني بالثروات الطبيعية كان مصدر لرزق سكان الإمارات في القدم حيث مهنة الغوص على اللؤلؤ وصيد السمك

1 من المهن القديمة التي اشتهر بها أهل الإمارات

B الصيد البري

A الجلافة

D الغوص

C التجارة

2 أي من الصور التالية تدل على مهنة الغوص



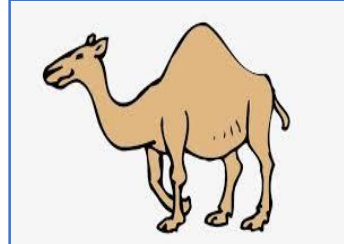
b



a



d



c



3 أجب عن الأسئلة التالية

مشبك يوضع على الأنف

السفن الشراعية تستخدم

4 الاسم القديم لرأس الخيمة

1	4	5	2	3
ج	ل	ا	ف	ر



+



سعود بن صقر

3	5	2	4	1

لقب أسد البحر ولد في جلفار له كتاب المحيط طور من البوصلة ركب البحار
وهو في سن السابعة عشر

1 الشخصية الواردة هو

B ابن بطوطة

A عباس بن فرناس

D الرازي

C أحمد بن ماجد

2 اثنتان من الصور تمثل وقت مناسب للصيد



b



a



d



c



3 أجب عن الأسئلة التالية

الناقل الوطني في الإمارات

وسيلة نقل جوي

4 ضع دائرة على موقع جلفار ودبي على الخريطة

